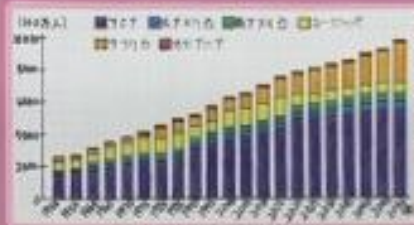


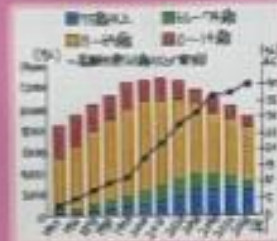
# どうする？ 日本の人口問題

①世界の人口（現在・過去・未来）




| 地域    | 2025年推定人口 | 2050年推定人口 |
|-------|-----------|-----------|
| アフリカ  | 14億       | 24億       |
| アジア   | 45億       | 49億       |
| ヨーロッパ | 7億        | 7億        |
| 北アメリカ | 4億        | 4億        |
| 南アメリカ | 4億        | 5億        |

②日本の人口（現在・過去・未来）



③日本の労働力人口




④日本の都道府県別人口




| 順位 | 都道府県 | 人口     |
|----|------|--------|
| 1  | 東京都  | 1,394万 |
| 2  | 神奈川県 | 1,000万 |
| 3  | 埼玉県  | 1,000万 |
| 4  | 千葉県  | 1,000万 |
| 5  | 大阪府  | 1,000万 |

⑤世界の人口密度



| 順位 | 国名     | 人口密度 (人/km²) |
|----|--------|--------------|
| 1  | シンガポール | 7,290        |
| 2  | 台湾     | 3,590        |
| 3  | 香港     | 3,280        |
| 4  | 韓国     | 3,270        |
| 5  | 日本     | 3,270        |

⑥世界のGDP



| 順位 | 国名   | GDP (1000億ドル) |
|----|------|---------------|
| 1  | アメリカ | 19,500        |
| 2  | 中国   | 14,500        |
| 3  | インド  | 7,500         |
| 4  | 日本   | 5,000         |
| 5  | ドイツ  | 4,000         |

世界のGDPは増加傾向にあるが、日本は減少傾向にある。これは日本の人口減少と高齢化による生産年齢人口の減少によるものである。

⑦世界の幸福度ランキング



| 順位 | 国名     | 幸福度スコア |
|----|--------|--------|
| 1  | アイスランド | 7.8    |
| 2  | デンマーク  | 7.7    |
| 3  | スウェーデン | 7.6    |
| 4  | フィンランド | 7.5    |
| 5  | オランダ   | 7.4    |

**まとめ**

① 世界の人口は増加傾向にあるが、日本は減少傾向にある。

② 日本の労働力人口は減少傾向にある。

③ 日本の高齢化率は増加傾向にある。

④ 日本の人口は地域によって異なる。

⑤ 日本の人口密度は高い。

⑥ 日本のGDPは減少傾向にある。

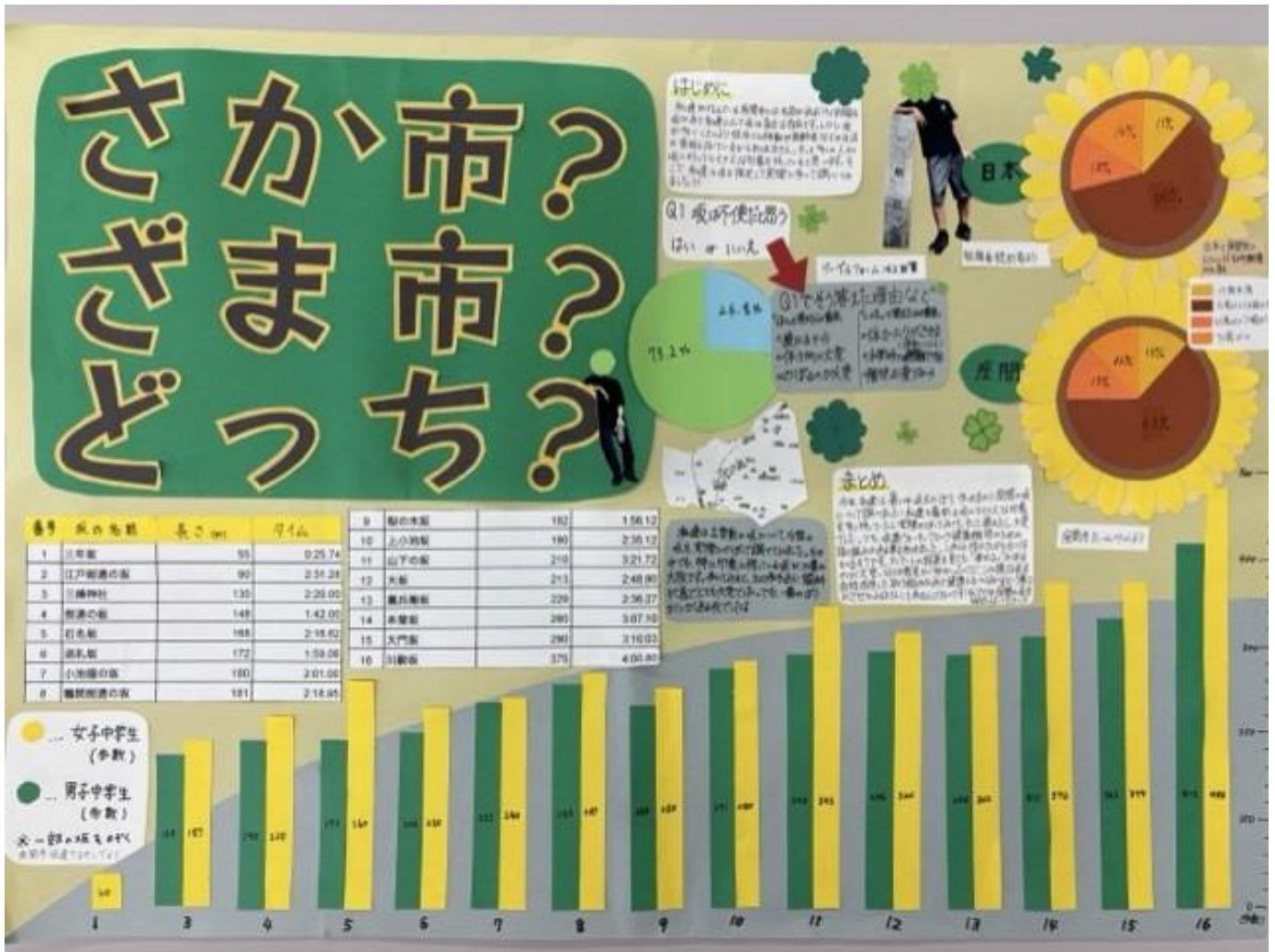
⑦ 日本の幸福度は高い。

**互知識**

人口ボーナス期

人口ボーナス期

第4部 特選  
 どうする？日本の人口問題  
 南中学校 3年  
 丸山 倅輝さん



第4部 入選  
 さか市? ざま市? どっち? (合作)  
 西中学校 2年  
 加藤 小百合さん、金井 禅之助さん、山下 愛果さん、横田 沙和さん  
 西中学校 1年  
 森田 真彩さん